

## ข้อสอบพัฒนาทักษะการคิดวิเคราะห์



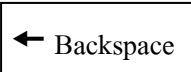
กลุ่มสาระการเรียนรู้ วิชาการทำงานอาชีพและเทคโนโลยี

ชั้นประถมศึกษาปีที่ 2

หน่วยฯ ที่ 7 เทคโนโลยีสารสนเทศ

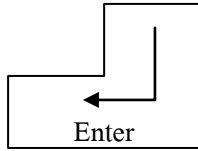
จำนวน 10 ข้อ

จงกา X ทับตัวอักษร ตรงกับตัวเลือกที่ต้องการลงในกระดาษคำตอบ

1. อวัยวะใดไม่ใช่ส่วนที่รับรู้ข้อมูล
  - ก. คอ
  - ข. ตา
  - ค. หู
2. การชมภาพยนตร์จากวีซีดี เป็นการรับรู้ข้อมูลประเภทใด
  - ก. ข้อมูลตัวเลข
  - ข. ข้อมูลภาพ
  - ค. ข้อมูลอักษร
3. แหล่งข้อมูลใดใช้รับรู้ข้อมูลได้ทางเดียว
  - ก. ภาพยนตร์
  - ข. หนังสือพิมพ์
  - ค. การสนทนาพูดคุย
4. ข้อใดจัดเป็นข้อมูลตัวเลข
  - ก. ข่าวจากวิทยุ
  - ข. กราฟเส้น
  - ค. บันทึกทรายรับ – รายจ่าย
5. ข้อใดมีทั้งข้อมูลภาพ และข้อมูลตัวอักษร
  - ก. หนังสือการ์ตูน
  - ข. ละครใบ้
  - ค. ละครวิทยุ
6. CPU เปรียบเสมือนอวัยวะส่วนใดของมนุษย์
  - ก. ตา
  - ข. สมอง
  - ค. มือ
7. ข้อใดแตกต่างจากข้ออื่น
  - ก. แป้นพิมพ์
  - ข. เม้าส์
  - ค. จอภาพ
8. เมื่อกดปุ่มในข้อใด จะได้ผลลัพธ์ที่ต่างออกไปจากข้ออื่น
  - ก. 
  - ข. 
  - ค. 
9. ซอฟต์แวร์ คือข้อใด
  - ก. โปรแกรมคอมพิวเตอร์
  - ข. ผู้ที่ใช้งานคอมพิวเตอร์
  - ค. อุปกรณ์ต่างๆ ของคอมพิวเตอร์

10. ปุ่มใด เพื่อเลื่อนตัวชี้ไปทางซ้าย

ก.



ข.



ค.

