

ชุดที่ 2**เวลาทำข้อสอบ 75 นาที**

- จำนวนใดมีค่าน้อยกว่า 800 ทุกจำนวน
ก. 812 725 613 924
ข. 729 615 667 594
ค. 950 728 654 543
- ข้อใดเขียนในรูปกระจายได้ถูกต้อง
ก. $251 = 200 + 51$
ข. $549 = 500 + 90 + 4$
ค. $725 = 700 + 20 + 5$
- 735 กับ 476 ตัวเลข 7 ของทั้งสองจำนวน มีค่าต่างกันเท่าไร
ก. 700 ข. 670
ค. 630
- 285 เป็นจำนวนที่นับต่อจากจำนวนสุดท้ายของข้อใด
ก. 293 291 289 287
ข. 250 260 270 280
ค. 260 265 270 275
- คู่ใดมีผลลัพธ์ต่างกันมากที่สุด
ก. $728 - 525$ กับ $151 + 272$
ข. $235 + 244$ กับ $796 - 352$
ค. $941 - 482$ กับ $351 + 422$
- ข้อใดไม่ถูกต้อง
ก. $459 + 262 > 876 - 197$
ข. $774 - 539 < 123 + 102$
ค. $536 - 272 = 108 + 156$
- จำนวนใดลบด้วย 159 แล้วมีค่าเท่ากับ $432 + 157$
ก. 748 ข. 738
ค. 728
- แม่ค้าขายส้มโอไป 23 ผลแล้วยังเหลืออีก 17 ผล เดิมแม่ค้ามีส้มโอกี่ผล
ก. 35 ผล ข. 40 ผล
ค. 50 ผล
- ป้าแมวมียูกขึ้น 250 ลูก บึ่งขายไปแล้ว 135 ลูก ป้าแมวเหลือลูกขึ้นอีกกี่ลูก
ก. 115 ลูก ข. 105 ลูก
ค. 95 ลูก
- พ่อค้าซื้อเสื้อมาขาย 175 ตัว ซื้อเสื้อน้อยกว่ากางเกง 59 ตัว แม่ค้าซื้อกางเกงกี่ตัว
ก. 224 ตัว ข. 234 ตัว
ค. 244 ตัว
- “แม่ค้าขายขนมกล้วย 720 ห่อ ขายขนมตาล 680 ห่อ” ข้อใดถูกต้อง
ก. แม่ค้าขายขนมกล้วยน้อยกว่าขนมตาล 40 ห่อ
ข. แม่ค้าขายขนมกล้วยน้อยกว่าขนมตาล 50 ห่อ
ค. แม่ค้าขายขนมกล้วยมากกว่าขนมตาล 40 ห่อ

12. สูดามีปลาเงิน 528 ตัว มีปลาทองมากกว่าปลาเงิน 113 ตัว สูดามีปลาทองกี่ตัว
- ก. 641 ตัว
ข. 631 ตัว
ค. 621 ตัว
13. ก. ----- ข.
จุดประ จาก ก ถึง ข ยาวกี่เซนติเมตร
- ก. 3 เซนติเมตร
ข. 4 เซนติเมตร
ค. 5 เซนติเมตร
14. ข้อใดเป็นเครื่องมือวัดที่มีหน่วยวัดมาตรฐานทั้งหมด
- ก. คีบ สอก วา
ข. ไม้เมตร ไม้บรรทัด ตลับเมตร
ค. ไม้บรรทัด สอก วา
15. ถ้าต้องการวัดความกว้างของห้องเรียน ควรใช้เครื่องมือวัดชนิดใด
- ก. ไม้บรรทัด
ข. ตลับเมตร
ค. ไม้เมตร
16. เชือกยาว 95 เซนติเมตร ไม้ไผ่ยาว 62 เซนติเมตร เชือกยาวกว่าไม้ไผ่กี่เซนติเมตร
- ก. 33 เซนติเมตร
ข. 32 เซนติเมตร
ค. 31 เซนติเมตร
17. ข้อใดถูกต้องเกี่ยวกับการใช้เครื่องชั่งสปริง
- ก. ก่อนชั่งเข็มของเครื่องชั่งชี้ที่ตัวเลขใดก็ได้
ข. การอ่านน้ำหนัก หากเข็มชี้ที่ตัวเลขใด ตัวเลขนั้นจะบอกน้ำหนักของสิ่งของนั้น
ค. เมื่อไม่ใช้เครื่องชั่ง ให้หาสิ่งของที่มีน้ำหนักมากวางค้ำไว้บนจานเครื่องชั่ง จะช่วยทำให้สปริงของเครื่องชั่งใช้งานได้ดี
18. น้ำหนักในข้อใดต่างจากข้ออื่น
- ก. 5 กิโลกรัม ข. 50 จีด
ค. 500 กรัม
19. “กมลใส่รองเท้าผ้าใบขึ้นชั่งน้ำหนักได้ 48 กิโลกรัม เมื่อถอดรองเท้าออกแล้วขึ้นชั่งใหม่ได้ 46 กิโลกรัม” ข้อใดถูกต้อง
- ก. น้ำหนักของกมลลดลง 2 กิโลกรัม
ข. รองเท้าผ้าใบหนัก 2 กิโลกรัม
ค. เครื่องชั่งไม่ได้มาตรฐาน
20. “แดงโมหนัก 3 กิโลกรัม 5 จีด ขนุนหนัก 3 กิโลกรัมครึ่ง” ข้อใดถูกต้อง
- ก. แแดงโมกับขนุนหนักเท่ากัน
ข. แแดงโมน้ำหนักมากกว่าขนุน
ค. แแดงโมน้ำหนักน้อยกว่าขนุน

21. “ชั้น 1 ใบ มีความจุเท่ากับ แก้ว 1 ใบ”

ข้อใดถูกต้อง

- ก. รูปร่างของชั้นและแก้วเท่ากัน
- ข. หากนำน้ำ 1 ชั้นที่เต็มพอดี เทลงในแก้ว จะได้น้ำครึ่งแก้ว
- ค. หากนำน้ำ 1 แก้วที่เต็มพอดี เทลงในชั้น จะได้น้ำเต็มชั้นพอดี



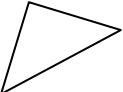
22. โรงเรียนทำนมถั่วเหลือง 42 ลิตร แบ่งให้นักเรียนห้องละเท่าๆ กัน 6 ห้อง จะได้นมถั่วเหลืองห้องละกี่ลิตร

- ก. 7 ลิตร ข. 6 ลิตร
 - ค. 5 ลิตร
23. ถังใบหนึ่งมีน้ำอยู่ 3 ลิตร เมื่อเติมน้ำลงไปอีก 9 ลิตร จะเต็มถึงพอดี ถังใบนี้มีความจุกี่ลิตร
- ก. 9 ลิตร ข. 11 ลิตร
 - ค. 12 ลิตร

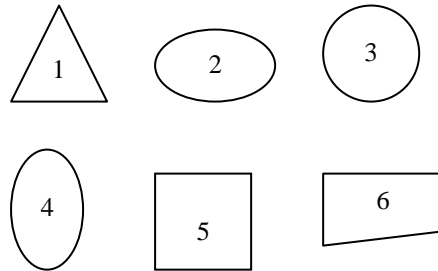
24. ข้อใดมีลักษณะเป็นทรงสี่เหลี่ยมมุมฉาก

- ก. ลูกบอล ข. แท่งชอล์ก
- ค. ตู้

25. ข้อใดเป็นรูปสามเหลี่ยม

- ก.  ข. 
- ค. 

26. พิจารณารูปต่อไปนี้



รูปใดบ้างเป็นรูปวงรี


- ก. รูป 2, 3 ข. รูป 2, 4
 - ค. รูป 5, 6
27. ข้อใดไม่สามารถนำมาเป็นแบบในการเขียนรูปวงกลม
- ก. เกรียงขบพาท
 - ข. แก้วที่เป็นทรงกระบอก
 - ค. ก่องยาสีฟัน

28.

429 434 439 444 449 ...

3 จำนวนถัดไป คือจำนวนใดบ้าง

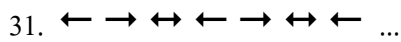
- ก. 454 464 474
 - ข. 454 459 464
 - ค. 454 554 654
29. แบบรูปของจำนวนในข้อใดมีความสัมพันธ์แบบลดลง
- ก. 325 330 335 340 345 ...
 - ข. 127 227 327 427 527 ...
 - ค. 526 516 506 496 486 ...



แบบรูปที่กำหนดให้มีความสัมพันธ์กัน
ในลักษณะใด

ก. รูปร่าง ข. สี

ค. ขนาด



รูปถัดไปคือรูปใด

ก.  ข. 

ค. 

32. พิจารณาข้อความต่อไปนี้

1) $3 + 3 + 3 + 3 + 3 = 5 \times 3$

2) $6 \times 7 = 54$

3) $3 \times 2 < 2 \times 3$

ข้อใดถูกต้อง

ก. ข้อ 1) เท่านั้น

ข. ข้อ 1), 3)

ค. ข้อ 2), 3)

33. 12×8 กับ 23×7 นำผลลัพธ์มารวมกัน
จะมีค่าเท่าไร

ก. 247 ข. 257

ค. 267

34. ข้อใดไม่ถูกต้อง

ก. $43 \times 3 < 37 \times 2$

ข. $56 \times 2 = 28 \times 4$

ค. $28 \times 8 < 36 \times 7$

35. $72 \div 9$ กับ 15×7 ผลลัพธ์มีค่าต่างกัน
เท่าไร

ก. 93 ข. 95

ค. 97

36. $54 \div 9$ ผลลัพธ์มีค่าต่างจาก 14 อยู่เท่าไร

ก. 8 ข. 7

ค. 6

37. ข้าวโพดต้ม 27 ฟัก จัดใส่ถุง ถุงละ 3 ฟัก

จะได้กี่ถุง

ก. 7 ถุง ข. 8 ถุง

ค. 9 ถุง

38. เรือนำเที่ยว 8 ลำ แต่ละลำมีผู้โดยสาร

32 คน รวมมีผู้โดยสารทั้งหมดกี่คน

ก. 246 คน ข. 256 คน

ค. 266 คน

39. เหรียญบาท 8 เหรียญ เหรียญห้าสิบสตางค์

4 เหรียญ แลกเหรียญห้าบาทได้กี่เหรียญ

ก. 1 เหรียญ ข. 2 เหรียญ

ค. 3 เหรียญ

40. ซื้อสมุดราคา 17 บาท จะต้องจ่ายเงินให้

พอดีกับราคาสมุดตามข้อใด

ก. เหรียญห้าบาท 3 เหรียญ

เหรียญบาท 3 เหรียญ

ข. เหรียญสิบบาท 2 เหรียญ

เหรียญบาท 1 เหรียญ

ค. เหรียญสิบบาท 1 เหรียญ

เหรียญห้าบาท 1 เหรียญ

เหรียญบาท 2 เหรียญ

41. มาลีซื้อเสื้อราคา 79 บาท ให้ธนบัตรฉบับละ

100 บาท มาลีจะได้รับเงินทอนกี่บาท

ก. 21 บาท ข. 22 บาท

ค. 11 บาท

42. แม่ซื้อกระเทียม 45 บาท ซื้อหัวหอม 58 บาท
แม่ต้องจ่ายเงินทั้งหมดกี่บาท
- ก. 100 บาท ข. 102 บาท
ค. 103 บาท
43. เวลา 8 นาฬิกา เข็มสั้นและเข็มนยาวจะชี้
ที่ตัวเลขใด
- ก. เข็มสั้นชี้ที่ 2 เข็มยาวชี้ที่ 12
ข. เข็มสั้นชี้ที่ 8 เข็มยาวชี้ที่ 12
ค. เข็มสั้นชี้ที่ 12 เข็มยาวชี้ที่ 8
44. ระหว่างเวลา 21 นาฬิกา กับ 22 นาฬิกา
เข็มสั้นชี้ระหว่างตัวเลขใด
- ก. 9 กับ 10 ข. 10 กับ 11
ค. 11 กับ 12
45. ข้อใดถูกต้อง
- ก. เดือนมีนาคมเป็นเดือนลำดับที่ 4
ข. เดือนกรกฎาคมเป็นเดือนลำดับที่ 7
ค. เดือนตุลาคมเป็นเดือนลำดับที่ 9
46. ข้อใดควรเติมเครื่องหมาย < ลงใน \square
- ก. $(323 - 41) + 199$ \square $(323 - 41) + 200$
ข. $(7 \times 8) \div 8$ \square $(4 \times 8) \div 8$
ค. $(43 - 22) \times 6$ \square $(43 - 22) \times 4$
47. ข้อใดมีผลลัพธ์มากกว่า 450
- ก. $678 - (25 \times 7)$
ข. $254 + (12 \times 4)$
ค. $(63 \div 9) \times 54$
48. $(64 \div 8) + (62 \times 7)$
ผลลัพธ์มีค่ามากกว่า 120 อยู่เท่าไร
- ก. 312
ข. 322
ค. 332
49. มีข้าวสารอยู่ 12 ถุง ขายไป 6 ถุง ข้าวสาร
หนักถุงละ 6 กิโลกรัม จะเหลือข้าวสาร
กี่กิโลกรัม
- ก. 24 กิโลกรัม ข. 30 กิโลกรัม
ค. 36 กิโลกรัม
50. $(7 \times 8) + (6 \times 9) = \square$ ตรงกับข้อใด
- ก. ซื้อเงาะ 7 กิโลกรัม ราคา กิโลกรัมละ
8 บาท ซื้อองุ่น 6 กิโลกรัม ราคา กิโลกรัม
ละ 9 บาท ซื้อเงาะกับองุ่นรวมกันเป็น
กี่กิโลกรัม
- ข. ซื้อปลาทอง 7 ตัว ราคาตัวละ 8 บาท
ซื้อกุ้ง 6 ตัว ราคาตัวละ 9 บาท
ซื้อปลาทองแพงกว่ากุ้งเท่าไร
- ค. ซื้อดินสอ 7 แท่ง ราคาแท่งละ 8 บาท
ซื้อไม้บรรทัดครึ่งโหล ราคาอันละ
9 บาท ซื้อดินสอกับไม้บรรทัดเป็นเงิน
ทั้งหมดเท่าไร