

ข้อสอบพัฒนาทักษะการคิดวิเคราะห์

กลุ่มสาระการเรียนรู้ คณิตศาสตร์

ชั้นประถมศึกษาปีที่ 2

หน่วยที่ 8 แบบรูปและความสัมพันธ์

จำนวน 10 ข้อ

จงกา X ทับตัวอักษร ตรงกับตัวเลือกที่ต้องการลงในกระดาษคำตอบ

1. แบบรูปของจำนวนในข้อใดลดลงทีละ 2

- ก. 96 101 106 111 116 ...
- ข. 83 81 79 77 75 ...
- ค. 76 66 56 46 36 ...

2.

27 32 37 42 47 ...

จำนวนถัดไปอีก 3 จำนวน คือข้อใด

- ก. 52 57 62
- ข. 57 52 67
- ค. 57 67 77

3.

237 227 ... 207 197

จำนวนที่หายไป คือจำนวนอะไร

- ก. 222                      ข. 217
- ค. 327

4. พิจารณาข้อความต่อไปนี้

- 1) 57 157 257 357 457 ...
- 2) 112 117 122 127 132 ...
- 3) 201 199 197 195 193 ...

แบบรูปในข้อใดที่มีลักษณะเพิ่มขึ้น

- ก. ข้อ 1), 2)                      ข. ข้อ 1), 3)
- ค. ข้อ 2), 3)

5.

107 105 103 101 99 ...

แบบรูปของจำนวนมีความสัมพันธ์กันอย่างไร

- ก. ลดลงทีละ 10
- ข. ลดลงทีละ 2
- ค. เพิ่มขึ้นทีละ 5

6.

□ 109 119 □ 139 149 ...

จำนวนใน □ คือจำนวนใดบ้าง

- ก. 104, 124                      ข. 104, 129
- ค. 99, 129

7.

★ ♥ ◉ ★ ♥ ◉ ★ ...

รูปถัดไปเป็นรูปอะไร

- ก. ★
- ข. ♥
- ค. ◉


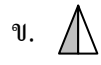
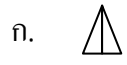
8.

ข้อใดเป็นแบบรูปที่มีความสัมพันธ์กันในลักษณะของขนาด

- ก. □ □ □ □ □ □ □ ...
- ข. ♥ △ □ ♥ △ □ ...
- ค. △ ▲ △ ▲ △ ▲ ...



รูปถัดไปคือรูปใด



รูปถัดไปคือรูปใด

