

ข้อสอบพัฒนาทักษะการคิดวิเคราะห์

กลุ่มสาระการเรียนรู้คณิตศาสตร์ ชั้นประถมศึกษาปีที่ 3

หน่วยที่ 10 รูปเรขาคณิต

จำนวน 10 ข้อ

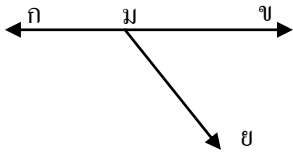
จงกา \times ทับตัวอักษรตรงกับตัวเลือกที่ต้องการลงในกระดาษคำตอบ

1.



สัญลักษณ์แทนรูปข้างบนคือข้อใด

- ก. จฉ ข. $\overline{จฉ}$
 ค. $\overrightarrow{จฉ}$ ง. $\overleftarrow{จฉ}$



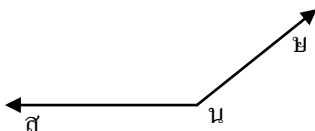
2. จากรูปจุดตัดคือข้อใด

- ก. จุด ข ข. จุด ก
 ค. จุด ม ง. จุด ย

3. ข้อใดคือส่วนของเส้นตรงและรังสี

- ก. ข.
 ค. ง.

4.



มุม สนย เกิดจากรังสีคู่ใด

- ก. $\overrightarrow{นส}$ $\overrightarrow{นย}$ ข. $\overrightarrow{สน}$ $\overrightarrow{นย}$
 ค. $\overrightarrow{นส}$ $\overrightarrow{นย}$ ง. $\overrightarrow{สน}$ $\overrightarrow{นย}$

5. สิ่งของในข้อใดมีลักษณะเป็นทรงกลม

- ก. กลองกระดาษ
 ข. ลูกบอล
 ค. กระป๋องนม
 ง. ตู้ใส่เสื้อผ้า

6. ข้อใดเป็นรูปสี่เหลี่ยมทุกรูป

- ก. ข.
 ค. ง.

7. สิ่งของในข้อใดมีลักษณะเป็น

ทรงสี่เหลี่ยมมุมฉาก

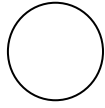
- ก. ขวด ข. แก้ว
 ค. หนังสือ ง. ลูกโลกจำลอง

8. ข้อใดใช้เป็นแบบรูปวงกลมไม่ได้

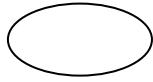
- ก. แก้ว ข. เหยือกชงชา
 ค. ขวด ง. ลูกบอล

9. ข้อใดมีแกนสมมาตรมากที่สุด

ก.



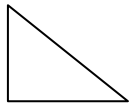
ข.



ค.

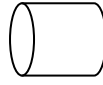


ง.



10. ข้อใดเป็นรูปเรขาคณิตสามมิติทั้งหมด

ก.



ข.



ค.



ง.

