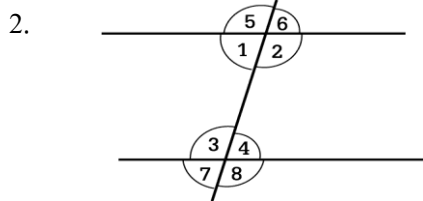


จงกา X ทับตัวอักษร ตรงกับตัวเลือกที่ต้องการลงในกระดาษคำตอบ

1. ข้อใดไม่ถูกต้อง

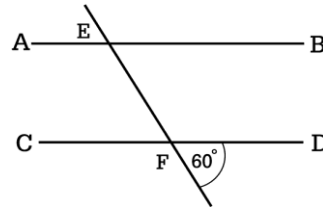
- ก. ลากเส้นตรงเส้นหนึ่งตัดเส้นตรงคู่หนึ่ง ทำให้เกิดมุมภายใน
- ข. มุมภายในที่อยู่เยื้องกัน เรียกว่ามุมแย้ง
- ค. ลากเส้นตรงเส้นหนึ่งตัดเส้นขนานคู่หนึ่ง จะเกิดมุมแย้งที่เท่ากัน
- ง. ลากเส้นตรงเส้นหนึ่งตัดเส้นขนานคู่หนึ่ง จะเกิดมุมภายในบนข้างเดียวกันของเส้นตัดรวมกันมากกว่า 180 องศา



ข้อใดถูกต้อง

- ก. มุม 1 และ มุม 3 เป็นมุมแย้ง
  - ข. มุม 2 และ มุม 4 เป็นมุมแย้ง
  - ค. มุม 1 และ มุม 4 เป็นมุมแย้ง
  - ง. มุม 5, 6, 7 และ 8 เป็นมุมภายใน
3. ข้อใดไม่มีเส้นขนานเป็นส่วนประกอบ
- ก. ตู
  - ข. โองน้ำ
  - ค. รั้วบ้าน
  - ง. หน้าต่าง

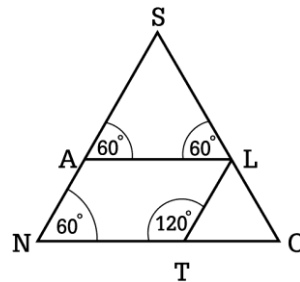
4.



จากรูป  $\overline{AB} \parallel \overline{CD}$  แล้ว  $\widehat{FEA}$  มีขนาดเท่าใด

- ก. 60 องศา
- ข. 80 องศา
- ค. 100 องศา
- ง. 120 องศา

จากภาพ ตอบคำถามข้อ 5 - 7



5. มุม SON มีขนาดกี่องศา

- ก. 45 องศา
- ข. 60 องศา
- ค. 90 องศา
- ง. 120 องศา

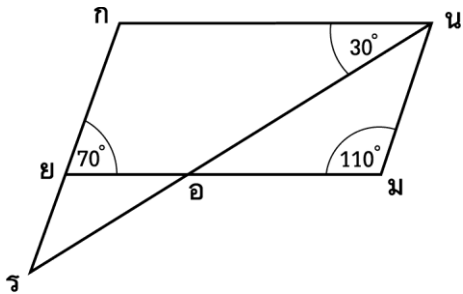
6. มุม NAL มีขนาดใหญ่กว่ามุม ALT กี่องศา

- ก. 120 องศา
- ข. 90 องศา
- ค. 60 องศา
- ง. 45 องศา

7. ข้อใดไม่ถูกต้อง

- ก.  $\overline{NA} \parallel \overline{TL}$
- ข.  $\overline{NT} \parallel \overline{AL}$
- ค.  $\overline{TO} \parallel \overline{AL}$
- ง.  $\overline{NA} \parallel \overline{OS}$

จากภาพ ตอบคำถามข้อ 8 – 10



8. มุมใดเป็นมุมแย้งกัน
- ก. มุม กนอ และ มุม มอน
  - ข. มุม กขม และ มุม นมอ
  - ค. มุม กรน และ มุม กนร
  - ง. มุม นมข และ มุม มนอ

9. ข้อใดถูกต้อง

- ก.  $\overline{กน} \parallel \overline{นม}$                       ข.  $\overline{กน} \parallel \overline{กร}$
- ค.  $\overline{กน} \parallel \overline{ขม}$                       ง.  $\overline{ขอ} \parallel \overline{อม}$

10. มุม ขอน มีขนาดกี่องศา

- ก. 30 องศา                      ข. 70 องศา
- ค. 110 องศา                      ง. 150 องศา